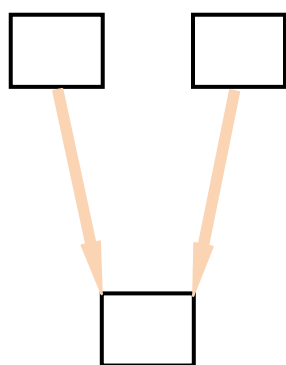


Projekt współfinansowany przez Unię Europejską w ramach Europejskiego Funduszu Społecznego.

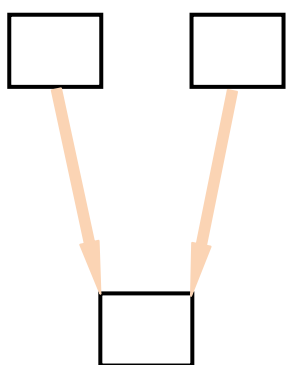
Karta pracy – Drzewka i grafy

Zadanie 1

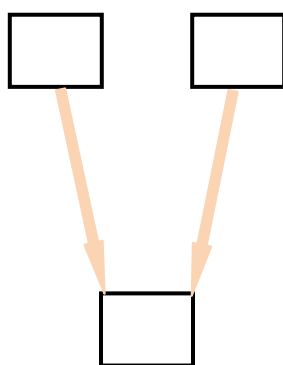
Oblicz i uzupełnij matematyczne drzewka i grafy.



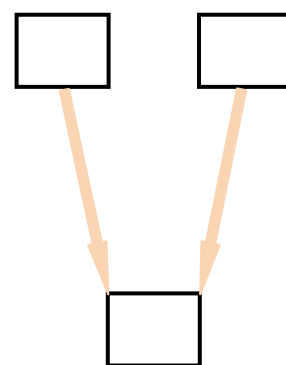
$$7 \cdot 9 = \square$$



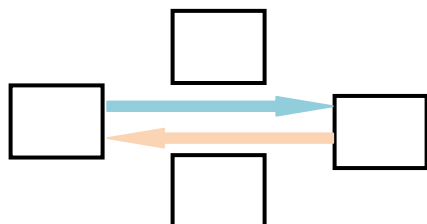
$$6 \cdot 8 = \square$$



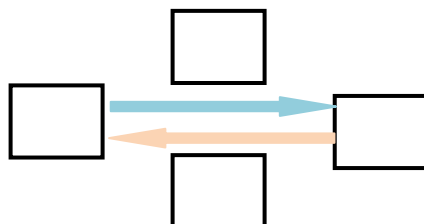
$$72 : 8 = \square$$



$$54 : 6 = \square$$



$$8 \cdot 4 = \square$$



$$32 : 8 = \square$$